



MINISTÉRIO DA CIÊNCIA E TECNOLOGIA
FINANCIADORA DE ESTUDOS E PROJETOS

Concurso Público

Cargo: ANALISTA
Área de Conhecimento 3

CADERNO DE PROVAS
(Aplicação: 16/12/2001)



**MINISTÉRIO DA CIÊNCIA E TECNOLOGIA
FINANCIADORA DE ESTUDOS E PROJETOS
Concurso Público (Aplicação: 16/12/2001)**

CARGO:
A N A L I S T A

ÁREA:
Área de Conhecimento 3

INSTRUÇÕES

- 1 Este caderno consta de **trinta e cinco** questões objetivas, assim distribuídas: **quinze** questões de **Conhecimentos Específicos**; **cinco** questões de **Conhecimentos Gerais**; **quatro** questões de **Conhecimentos de Informática**; **quatro** questões de **Língua Inglesa** e **sete** questões de **Língua Portuguesa**. Nele, também consta a prova discursiva de **Redação em Língua Portuguesa**, acompanhada de **duas** páginas para rascunho (de uso opcional).
- 2 Caso este caderno esteja incompleto ou tenha qualquer defeito, o candidato deverá solicitar ao fiscal de sala mais próximo que o substitua.
- 3 Recomenda-se não marcar ao acaso: cada item cuja resposta divirja do gabarito oficial definitivo acarretará a perda de 0,20 ponto, conforme consta no Edital n.º 1/2001 – A/FINEP, de 15/10/2001.
- 4 Não é permitida a utilização de nenhum material de consulta.
- 5 Durante as provas, o candidato não deve levantar-se nem comunicar-se com outros candidatos.
- 6 A duração das provas é de **cinco horas**, já incluído o tempo destinado à identificação — que será feita no decorrer das provas —, ao preenchimento da Folha de Respostas e à transcrição do texto definitivo para a respectiva folha.
- 7 A desobediência a qualquer uma das determinações constantes nas presentes Instruções, nas Folhas de Rascunho, de Respostas ou de Texto Definitivo poderá implicar a anulação das provas do candidato.

AGENDA

- I **18/12/2001** – divulgação dos gabaritos oficiais preliminares das provas objetivas, na Internet — no endereço <http://www.cespe.unb.br> — e nos quadros de avisos do CESPE/UnB — em Brasília.
- II **19 e 20/12/2001** – recebimento de recursos — provas objetivas —, exclusivamente nos locais a serem informados juntamente com a divulgação dos gabaritos oficiais preliminares das provas objetivas.
- III **20/2/2002** – data provável da divulgação (após a apreciação de eventuais recursos), no Diário Oficial e nos locais mencionados no item I, dos resultados: final das provas objetivas e provisório da prova discursiva.
- IV **21 e 22/2/2002** – recebimento de recursos — prova discursiva —, nos locais e nos horários a serem informados juntamente com a divulgação do resultado provisório da prova discursiva.
- V **7/3/2002** – data provável da divulgação (após a apreciação de eventuais recursos), no Diário Oficial e nos locais mencionados no item I, dos resultados finais da prova discursiva e do concurso.

Observações:

- Não serão objeto de conhecimento recursos em desacordo com o estabelecido no título **9 DOS RECURSOS** do Edital n.º 1/2001 – A/FINEP, de 15/10/2001.
 - Informações relativas a resultados poderão ser obtidas pelo telefone 0(XX)-61-448-0100.
 - É permitida a reprodução deste material, desde que citada a fonte.
-



MINISTÉRIO DA CIÊNCIA E TECNOLOGIA
FINANCIADORA DE ESTUDOS E PROJETOS
Concurso Público (Aplicação: 16/12/2001)

CARGO:
ANALISTA

ÁREA:
Área de Conhecimento 3

Nas questões de 1 a 35, marque, de acordo com o comando de cada uma delas: itens **CERTOS** na coluna **C**; itens **ERRADOS** na coluna **E**. Na Folha de Respostas, a marcação na coluna **SR** não contará para efeito de avaliação; servirá somente para caracterizar que o candidato desconhece a resposta correta. Use a Folha de Rascunho para as devidas marcações e, posteriormente, a **Folha de Respostas**.

CONHECIMENTOS ESPECÍFICOS

QUESTÃO 1

De acordo com os critérios previstos na Lei n.º 6.404/1976, para a avaliação dos elementos do ativo no balanço, os direitos que tiverem por objeto mercadorias e produtos do comércio da companhia, assim como matérias-primas, produtos em fabricação e bens em almoxarifado, deverão ser avaliados pelo custo de aquisição ou produção, deduzido de provisão para ajustá-lo ao valor de mercado, quando este for inferior. Com base nessas informações e nas disposições legais acerca da matéria, julgue os itens abaixo.

- Os estoques de mercadorias fungíveis destinadas à venda poderão ser avaliados pelo valor de mercado, quando esse for o costume mercantil aceito pela técnica contábil.
- Considera-se valor de mercado das matérias-primas e dos bens em almoxarifado o preço pelo qual possam ser repostos, mediante compra no mercado.
- Considera-se valor de mercado dos bens ou direitos destinados à venda o preço líquido de realização mediante venda no mercado, deduzidos os impostos e demais despesas necessárias para a venda, e a margem de lucro.
- Na hipótese de uma unidade de mercadoria comprada ao custo de R\$ 10,00 e que tenha o valor de mercado de R\$ 12,00, esse último preço deverá prevalecer na avaliação do ativo.
- A provisão citada implicará um registro a débito de despesa e a crédito do ativo imobilizado.

Tabela CE – questões de 2 a 5

ativo	balanço patrimonial (em R\$)				
	31/12/2000	31/12/1999	passivo	31/12/2000	31/12/1999
circulante	1.136.500,00	1.002.300,00	circulante	747.500,00	555.000,00
disponibilidade	85.500,00	158.000,00	fornecedores	158.000,00	138.000,00
contas a receber de vendas	652.300,00	532.000,00	pessoal e encargos a pagar	78.000,00	65.000,00
estoque de mercadorias	286.700,00	225.000,00	tributos a pagar	112.000,00	92.000,00
despesas do período seguinte	12.000,00	15.000,00	aluguéis e seguros a pagar	85.000,00	55.000,00
adiantamentos	50.000,00	35.000,00	dividendos	52.000,00	45.000,00
tributos a recuperar	35.000,00	25.300,00	empréstimos	250.000,00	150.000,00
outros	15.000,00	12.000,00	outros	12.500,00	10.000,00
realizável a longo prazo	15.000,00	12.500,00	exigível a longo prazo	255.000,00	150.000,00
empréstimos	15.000,00	12.500,00	empréstimos	255.000,00	150.000,00
permanente	777.000,00	470.000,00	patrimônio líquido	926.000,00	779.800,00
investimentos	115.000,00	12.500,00	capital social	650.000,00	650.000,00
imobilizado	652.000,00	455.000,00	reservas de capital	25.000,00	25.000,00
diferido	10.000,00	2.500,00	reservas de lucros	75.000,00	65.000,00
			lucros acumulados	176.000,00	39.800,00
total	1.928.500,00	1.484.800,00	total	1.928.500,00	1.484.800,00

QUESTÃO 2

Com base nas informações da tabela CE, julgue os itens que se seguem.

- Em disponibilidades, podem estar contidos os valores em caixa e bancos e as aplicações com liquidez imediata.
- Os valores apresentados como contas a receber não podem estar deduzidos da provisão para devedores duvidosos.
- Os estoques de mercadorias para revenda, com saída tributada, incluem obrigatoriamente os valores totais aplicados em mercadorias que ainda não foram vendidas ou consumidas, incluindo todos os tributos, como IPI, ICMS, PIS e COFINS.
- Em despesas do período seguinte, podem estar considerados os custos com pesquisa e desenvolvimento e despesas pré-operacionais.
- Em adiantamentos, no ativo circulante, podem estar considerados os adiantamentos concedidos a empregados.

QUESTÃO 3

Em relação às informações da tabela CE, julgue os itens a seguir.

- ❶ Em tributos a recuperar, podem estar incluídos os créditos de imposto de renda e a contribuição social, recolhidos antecipadamente, o imposto de renda retido na fonte e outros.
- ❷ Os empréstimos ativos devem estar avaliados pelo valor do capital emprestado mais os juros e atualizações monetárias incorridos e não recebidos até a data de cada balanço e ajustados por eventuais provisões ao valor de provável realização ou de mercado.
- ❸ Os investimentos podem incluir o custo de obras de arte.
- ❹ No ativo imobilizado, devem estar registrados os direitos que tenham por objeto bens destinados à manutenção das atividades da companhia e da empresa, ou exercidos com essa finalidade, inclusive os de propriedade industrial ou comercial.
- ❺ No ativo diferido, devem estar registrados os pagamentos antecipados de assinaturas anuais de jornais e revistas, os prêmios de seguros e alugueis.

QUESTÃO 4

Ainda com base na tabela CE, julgue os itens abaixo.

- ❶ Considerando o balanço de 31 de dezembro de 2000 mais o pagamento antecipado de fornecedor no valor de R\$ 1.200,00, correspondente a uma fatura registrada no passivo por R\$ 1.300,00 e um desconto de R\$ 100,00, sem outro fato contábil, tem-se um novo balanço encerrado sem alteração no valor do patrimônio líquido.
- ❷ Analisando a peça contábil da tabela CE e aceitando que as informações estão completas, que os saldos são representativos da realidade da situação patrimonial da empresa e que não há outro evento suscetível de ressalva, poderia um auditor independente ter fortes motivos para emitir um parecer adverso.
- ❸ Esse balanço fornece fortes evidências de risco de continuidade normal das atividades da empresa.
- ❹ Em reservas de capital, podem estar incluídos o produto da alienação de partes beneficiárias e bônus de subscrição e doações e as subvenções para investimento.
- ❺ Caso se tratasse de um balanço consolidado, incluindo o da controladora e o das controladas, deveria ser apresentado o valor das participações minoritárias.

QUESTÃO 5

Considerando a tabela CE quanto à análise econômico-financeira, julgue os itens subsequentes.

- ❶ O quociente de liquidez corrente em 31 de dezembro de 2000 é superior a 1,50.
- ❷ O quociente de liquidez geral em 31 de dezembro de 2000 é inferior a 1,2.
- ❸ O grau de endividamento sobre o patrimônio líquido em 31 de dezembro de 2000 é superior a 1,10.
- ❹ O quociente de imobilização do patrimônio líquido (capital próprio) em 31 de dezembro de 1999 é superior a 0,70.
- ❺ O capital circulante líquido em ambos os exercícios é negativo.

RASCUNHO

QUESTÃO 6

Acerca de fusão, cisão, incorporação, participações governamentais e avaliação de investimentos de empresas, julgue os itens que se seguem.

- ❶ Na fusão de duas empresas em que haja um acionista controlador comum a ambas, a participação desse acionista em uma das empresas deve ser eliminada no capital social da nova empresa resultante da fusão.
- ❷ Quando uma controladora incorpora uma controlada, ocorre a simples soma dos patrimônios líquidos na empresa incorporadora.
- ❸ Na cisão com versão parcial do patrimônio, o patrimônio da empresa cindida é eliminado.
- ❹ Na incorporação de uma coligada pela sua investidora, o investimento da investidora na coligada, avaliado pelo valor de patrimônio líquido sem a presença de ágio ou deságio, é eliminado totalmente.
- ❺ Na incorporação de uma empresa estatal, controlada pela União, a incorporadora passa a ter participação estatal, caso não haja exercício de direito de retirada.

QUESTÃO 7

rubricas	real	orçado
vendas (R\$)	10.000,00	12.000,00
volume	100.000	109.091
preço (R\$)	0,10	0,11

Considerando o quadro acima, julgue os itens seguintes, acerca de orçamento empresarial, mercado de capitais, ICMS, importação e exportação e efeitos inflacionários sobre o patrimônio das empresas.

- ❶ A variação das vendas de R\$ 2.000,00 negativa pode ser explicada em R\$ 1.000,00 pela variação de volume.
- ❷ A variação de preço é irrelevante na análise da variação total.
- ❸ A emissão pública de novas ações no mercado de capitais requer o registro e a aprovação da comissão de valores mobiliários.
- ❹ Na importação de mercadorias para revenda, com saída tributada pelo ICMS, pode ocorrer a tributação do ICMS na entrada, cujo valor do tributo deve ser reconhecido como crédito (ativo), para utilização no abatimento do valor a ser recolhido do mesmo tributo.
- ❺ Um patrimônio intensivo em ativos fixos é mais suscetível a perdas com a inflação que outro mais concentrado em elementos líquidos (caixa, bancos e recebíveis).

RASCUNHO

QUESTÃO 8

rubricas de controlada	valores em R\$
patrimônio líquido em 31/12/1999	100.000,00
lucro em 2000	10.000,00
patrimônio líquido em 31/12/2000	110.000,00

Considerando as informações da tabela acima em relação à avaliação de investimentos societários, não contemplando a hipótese de transações internas e lucros não-realizados, julgue os itens a seguir.

- ❶ Considerando que a controladora possua 80% da controlada, o valor de equivalência patrimonial do seu investimento deverá ser avaliado por um valor superior a R\$ 80.000,00 em 31 de dezembro de 1999.
- ❷ O valor do ganho com equivalência patrimonial operacional da controladora em 2000 foi superior a R\$ 7.000,00, considerando a participação acionária de 80%.
- ❸ Caso a investidora tivesse elevado a sua participação acionária no período, por meio de aquisição de novas ações emitidas a um preço inferior ao de patrimônio líquido, teria de registrar um resultado não-operacional no período correspondente a um ganho de capital.
- ❹ A participação acionária em empresa no exterior deve ser avaliada pelos mesmos critérios aplicados a investimentos em coligadas ou controladas brasileiras.
- ❺ A avaliação pelo método de equivalência patrimonial de investimentos representados apenas por ações ordinárias, de controle acionário, requer o reconhecimento de um prêmio de controle estimado em até 20% do valor de patrimônio líquido da controlada.

QUESTÃO 9

demonstração do resultado do exercício social de 2000 (em R\$)	
vendas brutas	10.000.000,00
tributos sobre as vendas	1.850.000,00
vendas líquidas	8.150.000,00
custo das mercadorias vendidas	4.156.500,00
lucro bruto	3.993.500,00
despesas administrativas	1.235.000,00
despesas comerciais	758.000,00
outras despesas e receitas	200.000,00
receitas/despesas financeiras	100.500,00
lucro antes do IR e CSLL	1.700.000,00

Considerando a demonstração do resultado acima apresentado, julgue os itens subseqüentes.

- ❶ O PIS/PASEP e a COFINS incidem sobre todas as receitas da empresa, exceto a receita financeira.
- ❷ O ICMS incide em cada estado da federação à alíquota própria para as operações internas, sendo que a alíquota para operações interestaduais é única em todo o Brasil.
- ❸ O imposto de renda da pessoa jurídica que seria provisionado para a demonstração do resultado antes apresentada, assumindo uma alíquota de 25%, seria superior a R\$ 400 milhões, não havendo diferenças permanentes a serem consideradas entre a apuração do lucro real e a contabilidade.
- ❹ Caso existisse uma receita não-tributada de R\$ 100 milhões, como a de equivalência patrimonial, o imposto de renda que seria registrado na demonstração de resultado seria inferior a R\$ 380 milhões.
- ❺ A contribuição social sobre o lucro líquido é dedutível para a formação do lucro real e da base de cálculo do imposto de renda de pessoa jurídica.

RASCUNHO

QUESTÃO 10

demonstração dos lucros acumulados	
rubrica	valores (em R\$)
lucros acumulados – saldo em 31/12/1999	500.000,00
lucro líquido de 2000	200.000,00
reserva legal	10.000,00
reserva de lucros a realizar	100.000,00
reversão da reserva de lucros a realizar	50.000,00
reversão da reserva de contingências	30.000,00

Com referência à destinação do resultado do exercício apresentada na tabela acima, julgue os itens a seguir.

- ❶ Distribuindo-se dividendos com base em 25% do lucro líquido ajustado, segundo a Lei das S.A., o valor devido seria superior a R\$ 50.000,00.
- ❷ A constituição da reserva de lucros a realizar pode ter fundamento em ganho com a equivalência patrimonial.
- ❸ Na distribuição de dividendos com base em lucros formados em exercícios anteriores, pode haver a incidência de imposto de renda retido na fonte (IRRF), caso em que a pessoa jurídica recebedora desse dividendo registrará em seu ativo o crédito de IRRF para compensação futura.
- ❹ Existindo um dividendo estatutário, fixo ou mínimo, maior que o calculado com base em 25% do lucro líquido ajustado, poderá a companhia distribuir o de menor valor.
- ❺ Na declaração dos dividendos, eles devem ser debitados ao passivo contra um crédito em lucros acumulados.

QUESTÃO 11

panificadora	
capacidade de produção de pãezinhos/mês	100.000
produção atual	60.000
custo variável unitário (R\$)	0,04
custo fixo mensal (R\$)	4.000,00

Acerca de custos e considerando a tabela acima, julgue os seguintes itens.

- ❶ A avaliação de estoques da panificadora pelo método de custeio variável, ou RKW, atenderia aos princípios fundamentais de contabilidade e seria aceita para divulgação das informações anuais.
- ❷ No caso de a panificadora vender seus pãezinhos a R\$ 0,15, deveria aceitar uma proposta de compra de 40.000 pães/mês, a R\$ 0,08 por unidade, caso não tivesse de fazer hora extra, porque aumentaria o lucro final.
- ❸ A margem de contribuição de cada pãozinho vendido a R\$ 0,15, com qualquer volume, é de R\$ 0,07.
- ❹ Os custos fixos da panificadora sofreriam elevação com o aumento da capacidade instalada da panificadora para 150.000 pães/mês.
- ❺ O ponto de equilíbrio da panificadora está situado acima de 37.000 pães/mês.

QUESTÃO 12

A respeito de *leasing*, conversão de demonstrações contábeis em moeda estrangeira e princípios internacionais de contabilidade, julgue os itens que se seguem.

- ❶ Conforme o FAS 13, uma operação é considerada *leasing* financeiro, caso o contrato transfira a propriedade do bem para o arrendatário, ao final do termo, por meio de uma opção de compra ou não.
- ❷ Na conversão de demonstrações para moeda estrangeira, sempre que os ganhos e perdas de conversão resultarem em uma diferença temporária de tributação, esses efeitos tributários deverão ser registrados como ativos ou passivos.
- ❸ De acordo com os princípios internacionais de contabilidade, o *leasing* financeiro deve ser registrado como uma aquisição financiada pelo arrendatário.
- ❹ Em relação aos princípios internacionais de contabilidade, especialmente nos Estados Unidos da América (EUA), a reavaliação de ativos permanentes não é uma prática recomendada.
- ❺ Com referência aos princípios contábeis norte-americanos, os juros de empréstimos e financiamentos utilizados para aplicação em ativos com longo prazo de maturação devem ser reconhecidos diretamente em despesa.

RASCUNHO

Considere as seguintes informações.

- Um cliente de uma empresa financeira está com uma dívida de R\$ 3.000,00 atrasada em três meses e tem a possibilidade de quitá-la à vista, com desconto de 30%, ou em 12 parcelas mensais fixas, com taxa de juros de 2% a.m.
- A poupança apresenta uma taxa real fixa de rendimentos de 0,72% a.m.

QUESTÃO 13

Com base nas informações do texto CE, julgue os itens abaixo.

- 1 Considerando $1,0072^6 = 1,044$, é correto afirmar que um capital aplicado na poupança por 12 meses tem um rendimento superior a 8,9%.
- 2 Considerando $\sum_{i=1}^{11} 1,02^{-i} = 10,56$, caso o cliente decida parcelar sua dívida, o valor de cada parcela será superior a R\$ 280,00.
- 3 Considere que o cliente disponha do montante exato de sua dívida, mas resolva parcelá-la em 12 meses, pagar a 1.ª delas e aplicar o restante na poupança, fazendo resgates mensais no valor de cada parcela, que é fixa e igual a P . Nesse caso, o saldo da poupança, ao final do 6.º mês, após a retirada da 7.ª parcela da dívida, poderá ser obtido, calculando-se o valor da seguinte expressão:

$$(3.000 - P) 1,0072^6 - P \times \sum_{i=0}^5 1,0072^i.$$

- 4 Se o cliente parcelar sua dívida e no final do 3.º mês resolver quitar o restante, terá de pagar uma quantia igual a $\sum_{i=4}^{11} P \times (1 + \frac{2}{100})^{-i}$, em que P é o valor da parcela.
- 5 Se for quitada em uma única parcela, a dívida sofrerá uma redução de mais de R\$ 1.000,00.

QUESTÃO 14

Se o cliente referido no texto CE resolvesse parcelar sua dívida, usando o sistema SAC de amortização e obedecendo à mesma taxa de juros de 2% ao mês, com 12 prestações mensais, nesse caso

- 1 o valor das prestações aumentaria mensalmente.
- 2 as parcelas de amortização seriam constantes e iguais a R\$ 250,00.
- 3 o valor da parcela de juros no 4.º mês seria igual a R\$ 24,50.
- 4 a parcela de juros diminuiria com o tempo.
- 5 a 10.ª prestação seria igual a R\$ 185,50.

QUESTÃO 15

Considere que, após analisar suas condições salariais, o cliente referido no texto CE tenha negociado a sua dívida em 5 pagamentos mensais, com taxa fixa de juros (aparente) de 2% a.m., cujos valores nominais, nos quatro primeiros meses, são, respectivamente, R\$ 300,00, R\$ 500,00, R\$ 500,00 e R\$ 350,00. A quinta parcela é calculada, levando-se em conta uma taxa de inflação mensal de 0,1%. Com base nessas informações, julgue os itens que se seguem.

- 1 A taxa aparente de rendimento da poupança é superior a 0,80% a.m.
- 2 A quinta parcela a ser paga é igual ao valor da expressão

$$\left[3.000 - \frac{500}{1,02} - \frac{500}{(1,02)^2} - \frac{350}{(1,02)^3} \right] \times (1,02)^4.$$

- 3 Se o cliente dispuser de R\$ 3.000,00, pagar a 1.ª das 5 parcelas, aplicar o restante na poupança e regastar a cada mês apenas o valor da parcela da dívida correspondente, o saldo na poupança, após o pagamento da 4.ª parcela, poderá ser calculado como resultado da seguinte expressão:

$$\{[(2.700 \times 1,0072 \times 1,001 - 500) \times 1,0072 \times 1,001 - 500] \times 1,0072 \times 1,001 - 350\}.$$

- 4 Na ausência de inflação, a taxa real mensal de juros a ser cobrada seria inferior a 1,8%.
- 5 Na ausência de inflação, o valor da 5.ª parcela poderia ser calculado como resultado da seguinte expressão:

$$\left[2.700 - 500 \times \frac{1,001}{1,02} - 500 \frac{1,001^2}{1,02^2} - 350 \times \frac{1,001^3}{1,02^3} \right] \times \frac{1,02^4}{1,001^4}.$$

CONHECIMENTOS GERAIS

QUESTÃO 16

Em entrevista à **UnB Revista** (ano 1, n.º 2, abr./maio/jun./2001), o ministro Ronaldo Sardenberg, da Ciência e Tecnologia, afirmou que, nesse setor estratégico, o Brasil está crescendo mais rápido que a média mundial. Algumas de suas idéias estão adaptadas no texto que se segue.

O Brasil, hoje, está entre os dezoito países que mais produzem artigos científicos. Nossos cientistas e pesquisadores respondem pela produção de 1%, talvez 1,1% ou 1,2% dos artigos mundiais. Nesse setor, nos últimos anos, a produção brasileira cresceu três vezes mais que a produção mundial.

Como a economia brasileira era fechada, havia pouca competição, e as empresas operavam com base em fatias do mercado. Estavam satisfeitas e, por isso, não investiam em tecnologia. Até hoje, são raríssimas as empresas no Brasil que têm vice-presidência de tecnologia.

Quando acabou a II Guerra Mundial, prevalecia a idéia de que existia uma coisa chamada ciência, e outra, diferente, chamada pesquisa aplicada, ou tecnologia. Hoje, todo mundo está convencido de que essa divisão possui limites menos precisos.

Relativamente ao tema da ciência e tecnologia, tendo por referência o texto, julgue os itens seguintes.

- ❶ No contexto mundial de ciência e tecnologia, o Brasil ocupa um plano intermediário, em patamar semelhante a países como China, Coreia e Índia.
- ❷ Pelas palavras do ministro, depreende-se que os maiores investimentos em ciência e tecnologia, no Brasil, deixaram de ser um quase monopólio do poder público e passaram a ser majoritariamente conduzidos pela iniciativa privada.
- ❸ Ao contrário da idéia predominante há algumas décadas, está sendo superada, nos dias de hoje, a dicotomia ciência pura *versus* ciência aplicada; com efeito, o entrelaçamento de ciência e tecnologia mostra-se decisivo para a atual expansão econômica global.
- ❹ Um exemplo significativo do desenvolvimento da ciência no Brasil é o Projeto Genoma, interligando grupos de pesquisa; de igual modo, a tecnologia brasileira de exploração de petróleo em águas profundas é mundialmente reconhecida.
- ❺ Infelizmente, para um país que precisa produzir alimentos para atender às necessidades de uma grande população, é quase nulo o investimento científico brasileiro na agricultura, padecendo o país da falta de uma instituição pública de pesquisa que atue no setor.

QUESTÃO 17

Passado o impacto inicial dos dramáticos acontecimentos de 11 de setembro de 2001, quando atos terroristas sem precedentes espalharam o pânico nos Estados Unidos da América (EUA) e assustaram a opinião pública mundial, é possível se fazer um balanço do ocorrido e de suas mais significativas repercussões. A esse respeito, julgue os itens que se seguem.

- ❶ A confirmação de que o saudita Osama Bin Laden havia sido o mentor dos atos terroristas que abalaram os EUA, a partir do refúgio seguro que lhe deram as milícias talibãs do Afeganistão, somente foi possível pela ação conjunta da CIA com as polícias secretas de Israel, Índia e Paquistão.
- ❷ Em que pese a praticamente unânime condenação mundial à barbárie terrorista, não faltaram vozes a lembrar que, enquanto persistir a instabilidade no Oriente Médio, especialmente em função da não-existência de um Estado palestino, permanecerão latentes os riscos à paz no planeta.
- ❸ Apesar da força política demonstrada nas eleições, quando venceu no voto popular e no colégio eleitoral, o presidente George W. Bush demorou a tomar medidas militares em reação ao terrorismo; provavelmente, sua indecisão decorreu da falta de apoio dos norte-americanos — confirmada pelos institutos de pesquisa — a atitudes bélicas.
- ❹ Em seu famoso e aplaudido discurso na Assembléia Nacional francesa, o presidente Fernando Henrique Cardoso esmerou-se em externar apoio integral à política externa dos EUA; daí, a forma cordial como foi recebido em Washington, com direito a entrevista coletiva em companhia do presidente Bush.
- ❺ Chamou a atenção dos analistas o fato de que, entre as medidas tomadas pelo governo dos EUA após os atentados, algumas tenham arranhado a sólida tradição norte-americana de respeito aos princípios democráticos e aos direitos civis, como aquelas que atingem mais diretamente os estrangeiros que vivem no país.

Preservação ambiental, produção e conservação de energia, uso racional dos recursos naturais, além do papel do conhecimento científico e das inovações tecnológicas no desenvolvimento econômico, são temas marcantes da agenda contemporânea. Em torno deles e de muitos outros aspectos, paira a própria concepção de desenvolvimento sustentável. A propósito desse quadro, típico dos dias atuais, julgue os itens abaixo.

- ❶ De formulação relativamente recente, o conceito de desenvolvimento sustentável pressupõe, em linhas gerais, a superação de uma prática econômica sumariamente destruidora da natureza e sintetiza-se na consciência de que o atendimento das necessidades atuais deve ser feito sem comprometer as possibilidades de as futuras gerações atenderem às suas.
- ❷ Pode-se dizer que múltiplos fatores concorreram para a grave crise energética brasileira que, formalmente anunciada em 2000, ainda persiste, embora atenuada, em fins de 2001. Entre esses fatores, estão a escassez de chuvas, comprometendo os reservatórios de água, que atingiram níveis preocupantes, e a falta de investimentos, que comprometeu, por exemplo, a expansão das linhas de transmissão de energia.
- ❸ Tem-se como certo que o atual estágio de desenvolvimento da economia mundial, com mercados crescentemente globalizados, sustenta-se, sobretudo, no avanço da ciência e nas incessantes inovações tecnológicas; esta era da informação e do conhecimento permite, entre outras facilidades, maior produção com menores custos, além de propiciar a veloz circulação de mercadorias e de capitais.
- ❹ O movimento pela internacionalização da Amazônia, absolutamente real e não mais contestado por ninguém, especialmente após o anúncio do Plano Colômbia, feito pelo governo dos EUA, ganhou maior densidade a partir da recente confirmação científica de que a floresta amazônica responde por mais da metade do oxigênio consumido no planeta, o que a faz efetivamente o *pulmão do mundo*.
- ❺ Logo após assumir a presidência dos EUA, George W. Bush marcou preciosos pontos junto à comunidade científica internacional e aos movimentos ambientalistas ao ratificar o apoio de seu país ao Protocolo de Kyoto e, como tal, dispor-se a determinar a gradativa redução da emissão de gases causadores do efeito estufa por parte das indústrias norte-americanas.

A menos de um ano das eleições gerais de 2002, são feitos lances com vistas à sucessão presidencial. A rapidez com que os fatos se sucedem faz do atual quadro político não mais que campo de suposições, já que muita coisa diferente poderá acontecer nos próximos meses. No momento, é possível estabelecer um panorama apenas superficial, uma espécie de retrato parcial da conjuntura política. Em relação ao cenário político brasileiro atual, julgue os itens a seguir.

- ❶ Três grandes agremiações partidárias — o Partido da Social Democracia Brasileira (PSDB), o Partido do Movimento Democrático Brasileiro (PMDB) e o Partido da Frente Liberal (PFL) — formam a coalizão governista que sustenta politicamente a administração Fernando Henrique Cardoso, atualmente na reta final de seus oito anos de mandato.
- ❷ Enquanto no PSDB ainda não há definição quanto ao candidato à presidência da República, no PFL aconteceu o contrário: apoiando-se no bom desempenho da governadora do Maranhão Roseana Sarney nas pesquisas de intenção de voto, o partido formalizou sua candidatura tão logo ela despontou nas referidas pesquisas, criando, com isso, dificuldades políticas insuperáveis com os demais parceiros de aliança governista.
- ❸ O PMDB, às voltas com sua crônica divisão interna, entre governistas e oposicionistas, chegou a um impasse: o grupo de oposição, que defende o afastamento do partido do atual governo, desistiu de apoiar a candidatura presidencial de Itamar Franco, sob a alegação de que o governador mineiro dá todas as indicações de que se comporá com Fernando Henrique Cardoso.
- ❹ Na oposição, o Partido dos Trabalhadores (PT) deverá marchar, uma vez mais, com a candidatura de Luís Inácio Lula da Silva, aceita consensualmente pelas correntes do partido e que corre isolada, já que não apareceu qualquer outro pretendente petista à presidência da República.
- ❺ Ex-governador do Ceará e ex-ministro da Fazenda, Ciro Gomes desistiu de sua candidatura à presidência da República pelo Partido Popular Socialista (PPS), a partir do momento em que deixou de contar com o apoio político dos governadores estaduais nordestinos, até então solidários em sua pré-campanha eleitoral.

QUESTÃO 20

O texto a seguir refere-se à manchete mundial do dia 26 de novembro de 2001, anunciando a clonagem do primeiro embrião humano.

A companhia norte-americana ACT anunciou ter concluído a primeira clonagem de um embrião humano da História. Trabalhando em segredo, os cientistas da ACT repetiram o processo usado na criação da ovelha Dolly, em 1996, e deram o primeiro passo para conseguir clonar um ser humano. Diretores da empresa disseram que a experiência tinha o objetivo de usar o embrião clonado para fins terapêuticos. Por trás do feito científico, esconde-se a briga pelo controle de um mercado potencialmente bilionário — o da clonagem terapêutica.

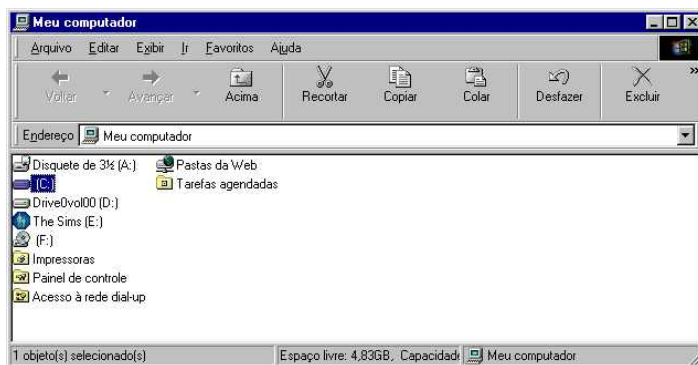
Folha de S. Paulo, 26/11/2001, "Folha Ciência", p. A1 e A13 (com adaptações).

Acerca desse tema e com o auxílio das informações do texto, julgue os seguintes itens.

- ❶ Por clonagem terapêutica entende-se aquela voltada para a obtenção de células-tronco para o tratamento de diversas doenças; em tese, os embriões clonados podem oferecer material para regenerar tecidos com problemas em órgãos como o fígado, o pâncreas ou a medula óssea.
- ❷ O grande potencial terapêutico das células-tronco consiste em sua capacidade de diferenciar-se em vários tipos de tecido do organismo; sua implantação em um paciente não corre risco de rejeição, pois os genes de ambos são os mesmos.
- ❸ O "mercado potencialmente bilionário" de que fala o texto explica-se pela grande quantidade, em todo o mundo, de casais sem filhos que, com a clonagem terapêutica, poderiam ser pais sem a necessidade de se submeterem à inseminação artificial.
- ❹ Em conformidade com a Lei de Biossegurança, adotada pelo Brasil em 1995, que proíbe a "produção, o armazenamento ou a manipulação de embriões humanos destinados a servir como material biológico disponível", uma experiência como a da ACT não seria permitida no país.
- ❺ O silêncio das lideranças religiosas, a começar pelo Vaticano, em relação ao anúncio da clonagem realizada pela empresa norte-americana, faz supor que a tendência para o futuro próximo é de apoio a esse tipo de experimento científico, tenha ele fins terapêuticos ou reprodutivos.

CONHECIMENTOS DE INFORMÁTICA

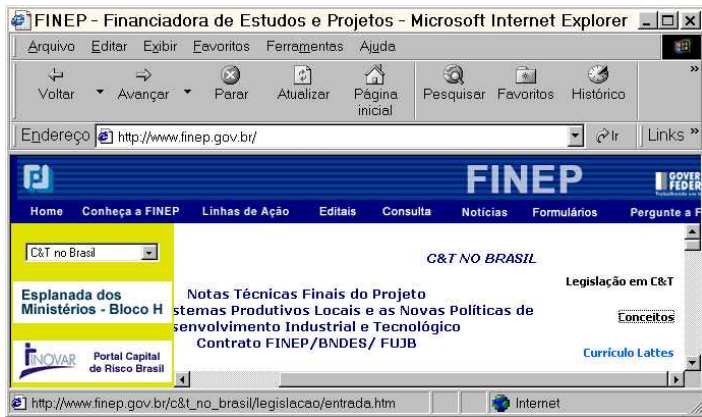
Nas questões de 21 a 24, a menos que seja explicitamente informado o contrário, considere que todos os programas mencionados estão em configuração-padrão, em português; que o *mouse* está configurado para pessoas destros e que expressões como clicar, clique simples e clique duplo referem-se a cliques com o botão esquerdo do *mouse*. Considere também que não há restrições de proteção e de uso em relação aos programas, arquivos, diretórios e equipamentos mencionados.

QUESTÃO 21






A figura acima apresenta a janela **Meu computador** do Windows 98.

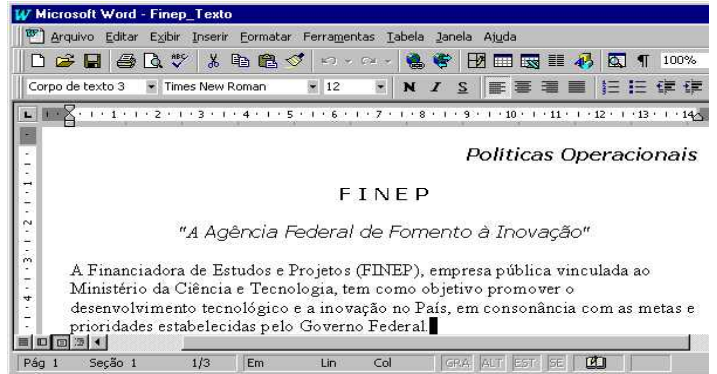
Com relação a essa janela e ao Windows 98, julgue os itens a seguir.

- ❶ Caso o usuário clique no ícone Painel de controle, será exibida a pasta Painel de controle, que contém os ícones de todos os programas que estão instalados no computador, inclusive os programas do Office 97, como o Word 97 e o Excel 97.
- ❷ Uma característica do Windows 98 é que o botão Excluir permite apagar os conteúdos de qualquer disco de armazenamento do computador, incluindo os conteúdos que estejam armazenados em discos de CD-ROMs gravável e não-gravável.
- ❸ Caso o usuário deseje fechar a janela mostrada, será suficiente clicar no botão Desfazer.
- ❹ Caso o usuário pressione simultaneamente as teclas Alt e Del, será aberta uma janela que mostrará os conteúdos do disco (C:).
- ❺ Caso o usuário aplique um duplo clique no ícone Impressoras, será aberta a janela Impressoras.




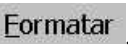



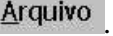


Com o objetivo de realizar uma pesquisa acerca de C&T no Brasil, um usuário da Internet acessou, por meio do Internet Explorer 5, o site da FINEP. A figura acima ilustra uma janela do Internet Explorer 5 que mostra uma das páginas acessadas nessa pesquisa. Com base na figura e acerca do Internet Explorer 5, da Internet e do Windows 98, julgue os seguintes itens.

- ❶ Quando se navega na Web, e um determinado site é acessado, um arquivo denominado *cookie* pode ser criado no computador do usuário, armazenando informações acerca desse usuário e de suas preferências, bem como registrando as páginas que foram acessadas dentro do site. A fim de proteger-se contra possíveis danos causados direta ou indiretamente por *cookies*, o Internet Explorer 5 permite configurações em que apenas sites autorizados podem criar *cookies* no computador do usuário.
- ❷ Pelo fato de os botões  e  estarem habilitados, pode-se concluir que a página mostrada foi acessada mais de uma vez na sessão de utilização do Internet Explorer 5 descrita acima.
- ❸ Caso o usuário deseje que a página mostrada na figura se torne a página inicial do Internet Explorer 5, será suficiente clicar no botão  e, em seguida, clicar no botão .
- ❹ O Internet Explorer 5 dispõe de um recurso denominado Assistente de perfil, que permite armazenar informações do usuário, como seu endereço ou seu nome de correio eletrônico, evitando que ele precise inseri-las repetidamente, sempre que visitar um novo site da Web que necessite dessas informações. Esse recurso, porém, torna o computador vulnerável a ataques de vírus de computador e de *hackers*, pois, ao registrar essas informações, elas passam a ser visíveis por qualquer internauta sem autorização prévia, devido a recursos de compartilhamento de informações.
- ❺ Caso o usuário deseje continuar a sua pesquisa em outros sites que abordem o tema C&T no Brasil, mas desconheça quais seriam esses sites, poderá fazer uso de um site de busca. Ao clicar no botão , o Internet Explorer 5 executará automaticamente o aplicativo Microsoft Outlook Express, especializado na busca de sites pela Internet.



A figura acima mostra parte de uma janela do Word 97, tendo na sua área ativa um arquivo de texto que está em processo de edição. Julgue os itens a seguir, relativos a essa figura e ao Word 97.

- ❶ Considerando que o termo “*Políticas Operacionais*” está digitado com a fonte nos estilos itálico e negrito, é correto afirmar que o usuário pode ter obtido esse efeito por meio da seguinte seqüência de ações: aplicou um clique duplo sobre qualquer das palavras do termo mencionado; clicou em ; clicou em .
- ❷ Caso o usuário deseje colocar as margens de todos os parágrafos do texto mostrado com a mesma formatação, poderá fazê-lo, realizando as seguintes ações: posicionar o cursor no início da primeira linha do texto; selecionar todo o texto por meio de um duplo clique no botão ; escolher a formatação desejada na opção Parágrafos do menu .
- ❸ Caso o arquivo cujo texto está mostrado na área ativa tenha sido carregado do disco rígido do computador, o usuário poderá armazená-lo automaticamente em um disquete de 3½ polegadas, bastando, para isso, clicar no botão .
- ❹ Caso o usuário selecione o termo FINEP e, em seguida, clique em , esse termo será excluído do texto. Se, ao final dessa última ação, o usuário clicar em , a exclusão será revertida, voltando o referido termo a ocupar a sua posição original.
- ❺ O usuário poderá guardar um resumo e obter estatísticas do arquivo que contém o texto que está sendo editado, caso escolha a opção Propriedades, encontrada no menu .

	Ano 1	Ano 2	Ano 3
CUSTOS (EM REAIS)			
Material de consumo	1000	2000	3000
Equipamentos	3000	1000	2000
Mão-de-obra	10000	10000	10000
CUSTO TOTAL			

Um usuário elaborou, no Excel 97, a planilha mostrada na figura acima, em que tabulou alguns dados relativos a custos de um determinado projeto. Acerca dessa situação, julgue os itens subsequentes.

- ❶ Caso deseje determinar o custo total referente ao “Ano 1”, pondo o resultado na célula B6, bastará que, sucessivamente, o usuário clique na referida célula, em e, finalmente, tecele .
- ❷ Para o usuário calcular a média anual de gastos em equipamentos, com base nos três anos mostrados, exibindo-a na célula E4, é suficiente clicar nessa célula, digitar =média(B4:D4) e, em seguida, teclar .
- ❸ Após a seqüência de ações descritas a seguir, aparecerão, nas células B7 e D7, respectivamente, os valores 4000 e 5000: clicar na célula B7; digitar =B3+B4 e, em seguida, teclar ; clicar na célula B7; clicar no menu e em Copiar; clicar na célula D7; clicar no menu e em Colar.
- ❹ Caso o usuário selecione as células B1, C1 e D1 e, em seguida, clique em , tais células serão mescladas.
- ❺ Para se limpar o conteúdo das células B5, C5 e D5, será suficiente selecioná-las e acionar a tecla .

LÍNGUA INGLESA

Text LI – questions 25 through 28

- 1 International Finance Corporation (IFC) offers a wide variety of financial products to private sector projects in developing countries.
- 4 A company or entrepreneur, foreign or domestic, seeking to establish a new venture or expand an existing enterprise can approach IFC directly by submitting an Investment Proposal. After this initial contact and a preliminary review, IFC may proceed by requesting a detailed feasibility study or business plan to determine whether or not to appraise the project.
- 10 The proposal can be submitted to an IFC industry sector department or to an IFC regional department at IFC headquarters in Washington, DC. The proposal can also be submitted to the IFC field office that is closest to the location of the proposed project.
- 16 Although IFC is primarily a financier of private sector projects, it may provide finance for a company with some government ownership, provided there is private sector participation and the venture is run on a commercial basis. Although IFC does not accept government guarantees for its financing, IFC’s work often requires close cooperation with government agencies in developing countries.
- 22 Internet: <<http://www.ifc.org/proserv/apply/application/application.html>> Nov. 2001 (with adaptations).

QUESTÃO 25

According to text LI, IFC

- ❶ finances the products it offers.
- ❷ works with any country all over the world.
- ❸ deals with private institutions.
- ❹ provides money for companies at home and abroad.
- ❺ works at least with two types of investments: for an enterprise expansion and for a new venture.

QUESTÃO 26

From text LI, it can be inferred that

- ❶ an investment proposal is required whenever a foreign company wants IFC finance.
- ❷ after a detailed study of the feasibility plan is submitted, the project is immediately approved.
- ❸ there are IFC regional departments in Washington.
- ❹ only industries can apply for IFC financing.
- ❺ IFC has local branches.

QUESTÃO 27

From text LI, it can be gathered that

- ❶ IFC is a non-profit company.
- ❷ national governments guarantee IFC’s acceptance of projects.
- ❸ in developing countries, local government agencies frequently participate in IFC’s work.
- ❹ public institutions, as such, cannot raise finance for their projects.
- ❺ private enterprise can support public institutions to borrow money from IFC.

QUESTÃO 28

In text LI,

- ❶ “wide” (l.1) is the opposite of **narrow**.
- ❷ “submitted” (l.11) is synonymous with **avoid**.
- ❸ “closest” (l.14) is the same as **nearest**.
- ❹ “provided” (l.18) is the past of **to provide**.
- ❺ the word “venture” (l.19) can be defined as **a plan of action, which involves risk or uncertainty**.

LÍNGUA PORTUGUESA

Texto LP-I – questões de 29 a 31 e questão 35

O leitor é personagem da modernidade, produto da sociedade burguesa e capitalista, livre dos laços de dependência da aristocracia feudal e do estreitamento corporativista das ligas medievais. A emancipação do leitor encena, de certo modo, o processo de libertação de que se originou a sociedade moderna. Nesse sentido, narrar a formação da leitura no Brasil significa também narrar, sob esse viés, a história da modernização de nossa sociedade.

Vários fatores criaram o espaço social necessário para transformar certo número de pessoas associadas a certas práticas sociais em leitores: o individualismo da sociedade burguesa, a visão de mundo antropocêntrica estimulada pela Renascença e difundida pela filosofia humanista, o progresso tecnológico que facultou o desenvolvimento da imprensa, a expansão da escola e do pensamento pedagógico apoiado na alfabetização, o fortalecimento de instituições culturais como as universidades, as bibliotecas e as academias de escritores.

Disso resultaram duas noções: de um lado, a noção de público, massa coletiva e anônima que, não obstante o anonimato, pode ter vontade própria e direção definida, incidindo em linhas de ação que a literatura, em parte ou no todo, acata ou não; de outro, a noção de leitor, indivíduo habilitado à leitura, com preferências demarcadas, figura que o escritor busca seduzir, lançando mão de técnicas e de artifícios contabilizados pela crítica e história da literatura.

Mesmo sendo presença suficientemente poderosa para influenciar os mecanismos literários, o leitor não se mostra figura unidimensional nem unidirecional. É exatamente o que é fugidio em sua história desdobra-se nos ângulos diferenciados que o leitor e a leitura foram assumindo ao longo do tempo.

Não que a leitura seja prática sólida no Brasil; nem que as instituições culturais e pedagógicas encarregadas de sua difusão tenham consistência ou estejam a salvo de críticas que, desde o século XIX, a elas são dirigidas. Desde a separação de Portugal, reclama-se (e com razão) uma atuação mais positiva e competente do Estado, no sentido de melhorar a educação e a cultura do país; nada indica que hoje essas reivindicações tenham perdido legitimidade e razão de ser.

Marisa Lajolo e Regina Zilberman. *A formação da leitura no Brasil*. São Paulo: Ática, 1998, p. 9-10 (com adaptações).

QUESTÃO 29

Os itens abaixo correspondem, na mesma seqüência, aos parágrafos do texto LP-I. Julgue se cada item expressa as idéias centrais do respectivo parágrafo.

- O leitor é personagem da modernidade só porque sua emancipação traduz o processo de liberação de que se originou a sociedade contemporânea.
- O individualismo da sociedade burguesa, o antropocentrismo estimulado pelo Renascimento, o desenvolvimento da imprensa e a expansão da escola são alguns dos fatores que criaram o espaço social propício à leitura.
- Do progresso tecnológico do século XIX resultaram duas noções: de um lado, a de público, que parte da, ou toda a literatura, pode reconhecer ou não; de outro, a de leitor, figura que o escritor busca seduzir com seu texto.
- O leitor, mesmo sendo presença poderosa, capaz de influenciar os mecanismos literários, não é figura de dimensão única, nem de direção unitária.
- Talvez porque no Brasil a leitura não seja prática sólida, nem sejam consistentes algumas das instituições culturais encarregadas de sua difusão, reclama-se uma atuação mais produtiva do Estado, no sentido de melhorar a cultura e a educação do país.

QUESTÃO 30

Com referência à sintaxe e à semântica do texto LP-I, julgue os itens a seguir quanto à substituição de uma expressão pela outra no contexto e à circunstância a elas correspondente.

	expressão	circunstância de	substituição
1	“de certo modo” (l.5)	modalidade	talvez
2	“Nesse sentido” (l.6)	conseqüência	Em decorrência
3	“sob esse viés” (l.7-8)	modo	sob tal prisma
4	“Mesmo sendo” (l.26)	concessão	Embora seja
5	“e com razão” (l.36)	aquiescência	razoavelmente

QUESTÃO 31

Ainda com relação ao texto LP-I, julgue os itens seguintes quanto à colocação pronominal e à correção da transformação sintática proposta.

- “narrar (...) a história da modernização de nossa sociedade” (l.7-8) por **narrá-la**
- “Vários fatores criaram o espaço social necessário” (l.9) por **Vários fatores criaram-no**
- “facultou o desenvolvimento da imprensa” (l.14) por **facultou lhe à imprensa**
- “pode ter vontade própria e direção definida” (l.20) por **pode ter-lhes**
- “que o leitor e a leitura foram assumindo ao longo do tempo” (l.30-31) por **que os assumiram ao longo do tempo**

Um jogo, os jogos

Toda interação pressupõe uma relação de reciprocidade, uma ação mútua entre dois ou mais objetos, entre duas ou mais pessoas. Multiplicam-se, atualmente, os programas interativos nos espetáculos de variedades da TV, surgem os primeiros filmes e as primeiras peças de teatro interativas, exigindo do espectador uma atitude crítica ao lidar com as diversas questões apresentadas e uma postura mais ativa ao intervir no desdobramento do que é visto nas telas, nos palcos e nos salões.

Ao dirigirmos um olhar atento às manifestações mais recentes da arte interacional, verificamos a expressiva tendência à utilização, em uma única obra, da combinação das variadas formas artísticas. É comum, por exemplo, atualmente, ouvir referências não a exposições de trabalho, mas a *performances*, instalações, videoinstalações, instalações multimídias ou termos equivalentes. A eletrônica define o futuro da arte interacional e revela uma nova consciência da evolução da arte, inserida em uma era voltada para a interatividade e a realidade virtual.

A arte contemporânea busca, intencionalmente, uma multiplicação de significados. Em um único livro, o leitor é convidado a conviver com uma pluralidade de histórias, de gêneros e de direções de leitura. Ocorre um movimento de desindividualização dos gêneros de arte. A literatura se associa aos roteiros de TV, à pintura, à escultura, à música, ao cinema, inaugurando, em sua estruturação original, um amplo e inequívoco projeto interativo, não fora esse o seu maior desafio.

Maria Angélica Alves. *Leitura e literatura infantil: a questão do ser, do fazer e do sentir*. Brasília: FINATEC, 2000, p. 34-8 (com adaptações).

QUESTÃO 32

Segundo o texto LP-II,

- ❶ a literatura situa-se entre os objetos culturais que pressupõem uma relação de reciprocidade, uma ação mútua entre um objeto e uma ou mais pessoas.
- ❷ os programas interativos tiveram início nos espetáculos de variedades da TV; depois, surgiram os primeiros filmes e as primeiras peças de teatro interativas; os livros interativos foram os derradeiros a aparecer.
- ❸ uma observação acurada das manifestações da arte interacional mais recentes revela uma acentuada tendência à utilização de variadas formas artísticas combinadas.
- ❹ uma consequência dos avanços tecnológicos das últimas décadas é a utilização, incidental, na arte contemporânea, de uma multiplicidade de gêneros e de significados.
- ❺ em um único livro interativo, o leitor pode conviver com uma variedade de histórias, de gêneros, de direções de leitura e de distintas manifestações artísticas.

QUESTÃO 33

Julgue as idéias dos períodos a seguir quanto à possibilidade de introduzirem um novo parágrafo final, corretamente grafado, mantendo coerência com o texto LP-II.

- ❶ Assim, um grande desafio para a literatura, na modernidade, é saber tecer em conjunto os diversos saberes e os diversos códigos em uma visão pluralística e multifacetada do mundo.
- ❷ Em síntese, o narrador e o leitor dos livros interativos reconhecem que, para vencer todos os obstáculos e cumprir a missão proposta no início da narrativa, é preciso utilizar a esperteza e o conhecimento.
- ❸ Finalmente, alguns livros modernos propõem desafios ou tarefas ao leitor para que ele possa vencer as etapas da leitura; outros estimulam a entrada do leitor na obra, por meio de alternativas ou opções propostas pelo narrador.
- ❹ A mudança de comportamento nas formas de interpretação do produto artístico reflete a mudança de comportamento exigida pela vida contemporânea.
- ❺ Vivemos em uma sociedade de opções, e alterar a ficção significa tão-somente expressar um desejo de alteração da própria realidade; alterar histórias é alterar a História.

QUESTÃO 34

Considerando as idéias do texto LP-II e os princípios de concordância, de regência e do emprego do sinal indicativo de crase, julgue os itens seguintes.

- ❶ Com referência à relação de reciprocidade, diz-se tratar de uma ação mútua entre dois ou mais objetos ou pessoas.
- ❷ Por parte do autor, há um apelo à uma atitude mais crítica do espectador, ao lidar com as diversas questões apresentadas nas obras interativas.
- ❸ Uma postura mais ativa a intervenção no desdobramento do que é visto nas telas é imperiosa nesse tipo de arte moderna.
- ❹ Um acurado olhar à nova manifestação artística interacional revelará à utilização de variadas formas artísticas comuns em uma única obra.
- ❺ Nesse novo tipo de arte, a leitura da literatura associa-se à da televisão, a da pintura, a da escultura, a da música e ao do cinema.

QUESTÃO 35

Considerando as idéias dos textos LP-I e LP-II, julgue os itens que se seguem quanto à manutenção do sentido, à pontuação e à grafia das palavras.

- ❶ Os dois textos, em síntese, asseguram que o importante é ler; não importa quais sejam o objeto e o objetivo da leitura.
- ❷ O texto LP-I é mais abrangente: faz uma retrospectiva da evolução do sentido de leitura, no transcurso do tempo afim de justificar o estágio atual.
- ❸ Mais do que no texto LP-I, no texto LP-II vêem-se a circunscrição do tema da leitura ao mundo contemporâneo e o diálogo entre distintas formas de expressão artística.
- ❹ Há, no texto LP-I, uma postura ideológica, politicamente explícita em favor da leitura, o que não se verifica no texto LP-II.
- ❺ Em nenhum desses textos encontram-se alusões às causas e às consequências do pouco interesse despertado pela leitura entre os jovens brasileiros.

PROVA DISCURSIVA

Na prova a seguir, faça o que se pede, usando as páginas para rascunho do presente caderno. Em seguida, transcreva o texto para a FOLHA DE TEXTO DEFINITIVO DA PROVA DISCURSIVA, nos locais apropriados, pois **não serão avaliadas provas com texto escrito em local indevido**. Utilize, no mínimo, **trinta** e, no máximo, **sessenta** linhas. Qualquer prova com extensão aquém da mínima de **trinta** linhas **efetivamente escritas** será apenada e qualquer fragmento de texto além da extensão máxima de **sessenta** linhas será desconsiderado.

ATENÇÃO! Na FOLHA DE TEXTO DEFINITIVO, identifique-se apenas no cabeçalho, pois **não serão avaliadas** as provas que tenham qualquer assinatura ou marca identificadora fora do local apropriado.

Ler ou não ler, eis a questão

Não existe estudo científico que comprove, mas há uma percepção disseminada a respeito da geração atual: ela não gosta de ler. A constatação parte dos professores. Eles se queixam de que só com muito esforço conseguem obrigar seus alunos a ler os clássicos da literatura.

Os pais endossam a percepção de repulsa dos jovens pelos livros. Reclamam freqüentemente que os filhos padecem de falta de concentração e, por isso, não são capazes de ler as obras básicas para entender a matéria.

Por que isso acontece? O que faz uma geração ler e outra fugir dos livros? Há diversas explicações, mas todas acabam convergindo para um mesmo ponto.

Quando as pessoas recebem a informação mastigada — na televisão, nos gibis, na Internet —, acabam tendo preguiça de ler, um ato que exige esforço e reflexão. Os canais pelos quais os jovens se informam nos dias de hoje são múltiplos. O livro é apenas um deles. E é o mais trabalhoso. Diante desse quadro, os educadores são unânimes em um ponto: as armas de estímulo à leitura precisam ser modernizadas.

Vivian Whiteman. Veja Jovens, ano 34, n.º 38, set./2001, p. 52-3 (com adaptações).

Considerando as idéias do texto acima como condutoras dos aspectos básicos a serem discutidos, redija uma dissertação, posicionando-se acerca da questão proposta no título do texto e propondo, caso queira, alguma estratégia para a resolução do problema, segundo a postura assumida.

1	
2	
3	
4	
5	
6	
7	
8	
9	
10	
11	
12	
13	
14	
15	
16	
17	
18	
19	
20	
21	
22	
23	
24	
25	
26	
27	
28	
29	
30	

31	
32	
33	
34	
35	
36	
37	
38	
39	
40	
41	
42	
43	
44	
45	
46	
47	
48	
49	
50	
51	
52	
53	
54	
55	
56	
57	
58	
59	
60	